

ELDELİ TOPLAMA İŞLEMİ

- Okul bahçesinde 48 ağaç vardı. 34 ağaç daha dikildi. Okul bahçesinde kaç ağaç oldu?
A) 82 B) 83 C) 84
- Berkan doğduğunda babası 36 yaşındaydı. Berkan şimdi 8 yaşında olduğuna göre babası kaç yaşındadır?
A) 82 B) 43 C) 44
- Sezer birinci gün 17 sayfa, ikinci gün 19 sayfa, üçüncü gün 24 sayfa kitap okumuştur. Sezer üç günde kaç sayfa kitap okumuştur?
A) 50 B) 55 C) 60
- 4 onluk, 3 birlikten oluşan sayıya 2 onluk, 9 birlik eklenirse hangi sayı oluşur?
A) 71 B) 72 C) 73
- Erman'ın 9 boya kalemi vardır. Ablasının boya kalemleri, Erman'inkinden 6 fazladır. İkisinin toplam kaç tane boya kalemi vardır?
A) 15 B) 24 C) 28
- 2 düzine defter ile 3 deste defterin 14 fazlası kaç defter eder?
A) 68 B) 69 C) 70
- Rana 13 yaşındadır. Annesi ise 34 yaşındadır. İkisinin 8 yıl sonraki yaşları toplamı kaç olacaktır?
A) 55 B) 60 C) 63

1. (A)(B)(C)
2. (A)(B)(C)

3. (A)(B)(C)
4. (A)(B)(C)

5. (A)(B)(C)
6. (A)(B)(C)

Eldeli Toplama İşlemi

Adı: Soyadı:
Sınıfı: Nu.: Tarih: .../.../.....



- Aşağıdaki sayıların toplamlarını karşlarına yazalım.

$22+18+7 =$

$4+45+4 =$

$52+15+5 =$

$34+28+18 =$

$45+32+13 =$

$57+21+9 =$

$30+25+15 =$

$42+21+19 =$

$50+25+15 =$

- Aşağıdaki meyvelerin yerine uygun sayıları koyarak toplama işlemlerini yapalım.

$\text{Apple} = 49$

$\text{Orange} = 38$

$\text{Strawberry} = 27$

$\text{Pear} = 16$

$\text{Apple} + \text{Orange} =$

$\text{Apple} + \text{Strawberry} =$

$\text{Apple} + \text{Pear} =$

$\text{Orange} + \text{Strawberry} =$

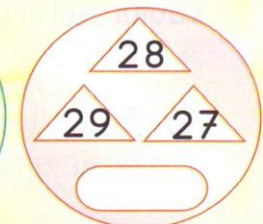


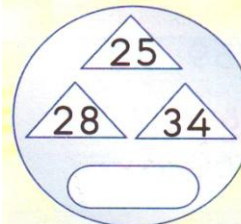
$\text{Strawberry} + \text{Orange} =$

$\text{Pear} + \text{Strawberry} =$

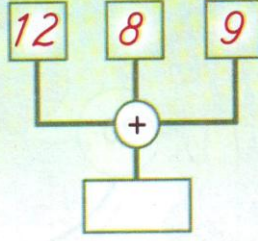
$\text{Orange} + \text{Pear} =$

$\text{Orange} + \text{Orange} =$

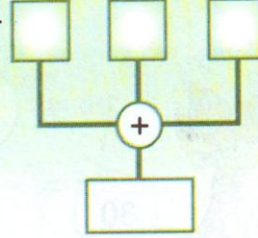
- Aşağıdaki sayıların toplamını kutulara yazalım.



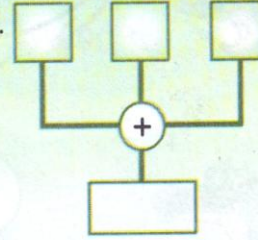
1. Gözde 8, Işıl 12, Defne 9 yaşındadır. Üçünün yaşlarının toplamı kaçtır?



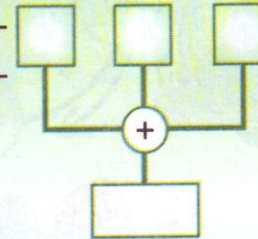
2. Bir tabakta 23 fındık, 12 ceviz ve 7 nar vardır. Tabaktaki meyveler toplam kaç tanedir?



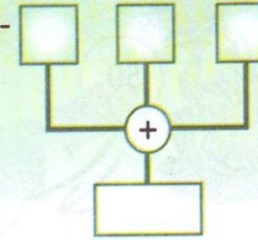
3. Sınıfımıza 19 sarı, 14 yeşil ve 11 mavi balon astık. Sınıfımıza astığımız balonlar toplam kaç tanedir?



4. Manavımızda bugün 24 kilogram elma, 13 kilogram portakal, 6 kilogram muz sattık. Sattığımız meyveler toplam kaç kilogramdır?



5. Bir çiftlikte 9 inek, 30 civciv ve 31 tavuk vardır. Çiftlikte toplam kaç hayvan vardır?




ELDELİ TOPLAMA İŞLEMİ

1. Tuğba 14, Ece 17, Sedef 19 yaşındadır. Üçünün yaşlarının toplamı kaçtır?

A) 48 B) 49 C) 50

2. Kaplumbağaların üzerindeki sayıların toplamı, kaplumbağaların yaşını belirtmektedir. Buna göre en yaşlı kaplumbağa hangisidir?



3. Tabaktaki fındıkların sayısı 5 desteden 18 tane fazladır. Tabakta kaç fındık vardır?

A) 58 B) 68 C) 78

4. 25 sayısını önce kendisiyle sonra da 45 ile toplarsak hangi sayıyı buluruz?

A) 95 B) 90 C) 85

5. 2-A sınıfı 29 erkek, 22 kız öğrenciden oluşmaktadır. 2-B sınıfının mevcudu ise 49'dur. İki sınıfta toplam kaç öğrenci vardır?

A) 95 B) 97 C) 100

6. $A=32$ $B=37$ $C=54$ ise $B+C$ 'den A 'yı çıkartırsak hangi sayıyı buluruz?

A) 55 B) 57 C) 59

7. Aşağıdakilerden hangisinin toplamı 68 **değildir**?

A) 4 düzine + 20 B) 5 deste + 8 C) $60+8$

1. A B C
2. A B C

3. A B C
4. A B C

5. A B C
6. A B C