

## Verilmeyen Toplananı Bulma

Adı: ..... Soyadı: .....  
Sınıfı: ..... Nu.: ..... Tarih: .../.../.....

Bafra  
Gazi İO

Bafra  
Gazi İO

- 1 Aşağıdaki toplama işlemlerinde verilmeyen toplananları bulalım.

$$\begin{array}{r} 2 \\ + \square \\ \hline \end{array} \rightarrow \begin{array}{r} \square \\ + \square \\ \hline \end{array} \rightarrow \begin{array}{r} \square \\ + \square \\ \hline \end{array} \rightarrow \begin{array}{r} \square \\ + \square \\ \hline \end{array} \rightarrow \begin{array}{r} \square \\ + \square \\ \hline \end{array}$$

$$\begin{array}{r} \square \\ + 3 \\ \hline \end{array} \rightarrow \begin{array}{r} \square \\ + \square \\ \hline \end{array} \rightarrow \begin{array}{r} \square \\ + \square \\ \hline \end{array} \rightarrow \begin{array}{r} \square \\ + \square \\ \hline \end{array} \rightarrow \begin{array}{r} \square \\ + \square \\ \hline \end{array}$$

- 2 Aşağıdaki toplama işlemlerinde verilmeyen toplananları bulalım.

$$\begin{array}{r} 4 \\ + \square \\ \hline \end{array} \rightarrow \begin{array}{r} \square \\ + \square \\ \hline \end{array} \rightarrow \begin{array}{r} \square \\ + \square \\ \hline \end{array} \rightarrow \begin{array}{r} \square \\ + \square \\ \hline \end{array} \rightarrow \begin{array}{r} \square \\ + \square \\ \hline \end{array}$$

$$\begin{array}{r} \square \\ + 5 \\ \hline \end{array} \rightarrow \begin{array}{r} \square \\ + \square \\ \hline \end{array} \rightarrow \begin{array}{r} \square \\ + \square \\ \hline \end{array} \rightarrow \begin{array}{r} \square \\ + \square \\ \hline \end{array} \rightarrow \begin{array}{r} \square \\ + \square \\ \hline \end{array}$$

$$\begin{array}{r} \square \\ + 6 \\ \hline \end{array} \rightarrow \begin{array}{r} \square \\ + \square \\ \hline \end{array} \rightarrow \begin{array}{r} \square \\ + \square \\ \hline \end{array} \rightarrow \begin{array}{r} \square \\ + \square \\ \hline \end{array} \rightarrow \begin{array}{r} \square \\ + \square \\ \hline \end{array}$$

Bafra Gazi İO

## VERİLMİYEN TOPLANANI BULMA

Bafra Gazi İO

1.  $\begin{array}{r} 5 \\ + \square \\ \hline 8 \end{array}$  Yandaki toplama işleminde ikinci toplanan kaçtır?  
A) 5 B) 4 C) 3

2.  $\begin{array}{r} 6 \\ + \square \\ \hline 9 \end{array} \rightarrow \begin{array}{r} \square \\ + ? \\ \hline 14 \end{array}$  Yandaki toplama işleminde ? yerine hangi sayı yazılmalıdır?  
A) 10 B) 11 C) 12

3.  $\begin{array}{r} 64 \\ + \square \\ \hline 96 \end{array}$  Yandaki toplama işleminde verilmeyen toplanan kaçtır?  
A) 30 B) 32 C) 34

4. Aşağıdaki toplama işlemlerinin hangisinde soru işareti ile belirtilen yere 24 sayısı getirilmelidir?  
A)  $20 + ? = 44$  B)  $? + 45 = 79$  C)  $72 + ? = 98$

5. Betül aklından bir sayı tuttu. Tuttuğu sayıya 42 ekledi. Toplam 78 olduğuna göre Betül'ün aklından tuttuğu sayıyı bulmak için hangi işlemi yapmamız gerekir?

A)  $\begin{array}{r} 42 \\ + \square \\ \hline 78 \end{array}$  B)  $\begin{array}{r} 78 \\ - 42 \\ \hline \square \end{array}$  C)  $\begin{array}{r} 42 \\ + 78 \\ \hline \square \end{array}$

6.  $\begin{array}{r} 62 \\ + \square \\ \hline 86 \end{array}$   $\begin{array}{r} \square \\ + 45 \\ \hline 79 \end{array}$   $\begin{array}{r} 12 \\ + \square \\ \hline 56 \end{array}$  Yandaki toplama işlemlerinden hangisinin verilmeyen toplananı 44'tür?

A) birincinin B) ikincinin C) üçüncünün

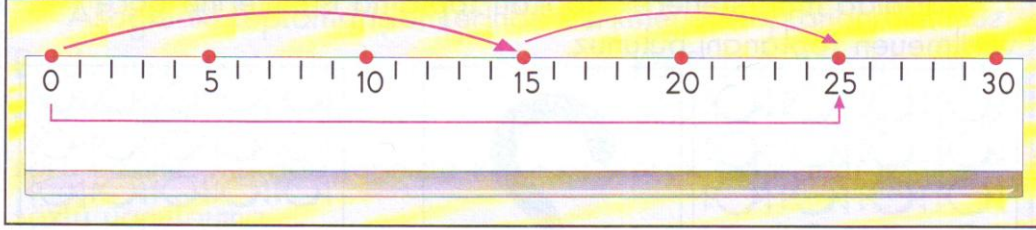
1. (A)(B)(C)  
2. (A)(B)(C)

3. (A)(B)(C)  
4. (A)(B)(C)

5. (A)(B)(C)  
6. (A)(B)(C)

✿  $15 + \square = 25$  işleminde verilmeyen sayı kaçtır?

Verilmeyen sayıyı cetvel modeli kullanarak bulalım.



✿ Verilen toplanan kaçtır?

.....

✿ Toplam kaçtır?

.....

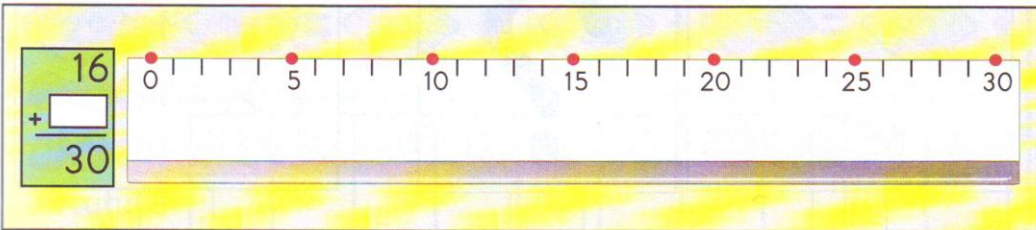

✿ 15'i hangi sayı ile toplarsanız 25 eder?

.....

✿ Verilen sayıya kaç tane birlik ekleyerek toplananı buldunuz?

.....

✿ Aşağıdaki toplama işlemlerinde verilmeyen toplananı cetvel modelini kullanarak bulunuz.



Aşağıda modellenerek yapılan toplama işlemlerine göre verilmeyen toplananı bulunuz.

18	+	7
	=	25
	+	
	=	
	+	
	=	
	+	
	=	