

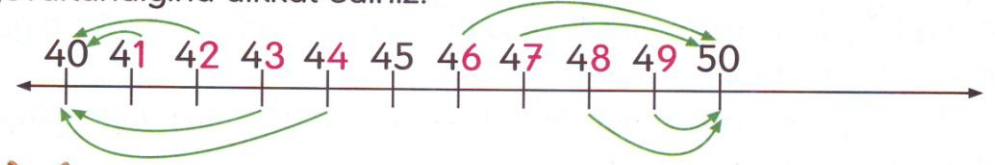


● Hayvanların üzerinde durdukları sayıların hangi onluğa daha yakın olduğunu yazınız.



HANGİ SAYI, HANGİ ONLUĞA YUVARLANIR?

Aşağıdaki sayı, doğrusunu inceleyiniz. Sayıların hangi onluğa yuvarlandığına dikkat ediniz.



Ben bununla ilgili bir yöntem buldum. Birler basamağı 1, 2, 3, 4 olan sayılar önceki onluğa yuvarlanıyor. Birler basamağı 6, 7, 8, 9 olan sayılar sonraki onluğa yuvarlanıyor.



ALİŞTIRMALAR

15

Tavşanın yöntemini beğendiniz mi? Siz de farklı bir yöntem bulabilir misiniz?

Aşağıdaki sayıları, en yakın onluğa yuvarlayınız.

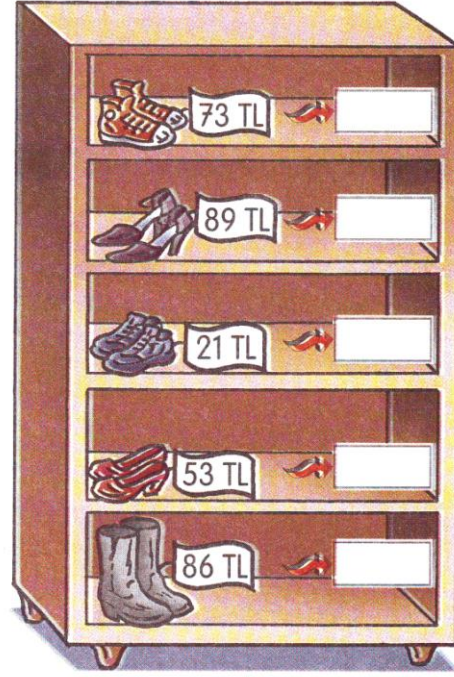

18 → .20...	52 →	48 →	53 →	43 →
12 → .10...	17 →	27 →	39 →	44 →
29 →	23 →	93 → .90...	21 →	33 →
32 →	38 →	86 →	72 →	28 →
47 →	47 →	63 →	66 →	84 →
24 →	78 →	34 →	57 → 60...	41 →
33 →	81 →	22 →	42 →	73 →
46 →	93 →	74 →	87 →	59 →
58 →	72 →	51 →	79 →	36 →
49 →	82 →	91 →	61 →	92 →

60'a yuvarlarım, bu 60'a daha yakın.




Bu da 80'e daha yakın. 80'e yuvarlarım.



● Raflardaki ayakkabıların fiyatlarını belirten sayıları en yakın onluğa yuvarlayınız.



● Baştaki sayının en yakın onluğa yuvarlanmış biçimini yıldızların içinden bulup işaretleyiniz. Bu yıldızları boyayınız.



1. Sayıları en yakın onluğa yuvarladığımızda, aşağıdaki hangi sayıyı 90'a yuvarlayamayız?

- A) 84 B) 86 C) 94

2. En yakın onluğa yuvarlandığımızda, hangi seçenekteki sayıyı 70'e yuvarlayabiliriz?

- A) 63 B) 64 C) 74

3. 34, 43, 36 ve 47 sayılarını en yakın onluğa yuvarlayalım. 40'a yuvarlayabileceğimiz sayılar kaç tanedir?

- A) 3 B) 2 C) 1

4. $\boxed{76, 84, 78, 86, 74}$ sayılarından 80'e yuvarlanamayacakların sayısı hangi seçenekte verilmiştir?

- A) 1 B) 2 C) 3

5. Aşağıdaki sayılar en yakın onluğa yuvarlanmıştır. Doğru yapılmış yuvarlamaların sayısı hangi seçenekte verilmiştir?

- 89 → 80 • 28 → 30 • 44 → 50
- 64 → 60 • 77 → 70 • 16 → 20

- A) 5 B) 4 C) 3