

20. Hangisi bir meslek adı **değildir**?
A) iletişim B) marangoz C) berber

21. Aşağıdaki taşıtı kim kullanır?



- A) kaptan
B) hostes
C) pilot

22. Dengeli ve düzenli beslenmek için hangisini bol miktarda yemeliyiz?
A) çikolata B) hamburger C) sebze ve meyve

23. "Ayşe, dersi dinleyemiyordu. Çünkü Mert ile Deniz aralarında sürekli konuşuyorlardı." Hangisi bu sorunun çözümü **olamaz**?

- A) Ayşe, sınıfı terk edip çıkar.
B) Ayşe, arkadaşlarıyla sorununu konuşabilir.
C) Ayşe, öğretmeninden yerini değiştirmesini isteyebilir.

24. "Arkadaşlık ilişkilerinde çok önemlidir" cümlesini hangisiyle tamamlarsak **yanlış** olur?

- A) kıskançlık B) dürüstlük C) nezaket

25. Resimde gösterilen yuva hangi canlıya ait olabilir?



- A) inek B) köpek C) kuzu

Her soru 4 (dört) puandır.
CEVAPLARINIZI KONTROL EDİNİZ

S. Ocak
Süleyman OCAK
Uzman Sınıf Öğretmeni



TÜRKÇE DERSİ SORULARI

Aşağıdaki ilk altı soruyu metne göre cevaplayınız.

Adım Gamze, ikinci sınıf öğrencisiyim. Biz kalabalık bir aileyiz. Tarık ve Onur adlarında iki ağabeyim, Gülşen adında bir ablam var. Samsun'a on dakika uzaklıkta Topçam Köyü'nde oturuyoruz. Benim Gümüş adlı bir kedim var. Her akşam onunla oynarım.

1. Metne göre **kim** ikinci sınıfa gidiyor?
A) Tarık B) Onur C) Gamze
2. Metne göre evcil hayvana verilen **özel ad** hangisidir?
A) Topçam B) Gülşen C) Gümüş
3. Çocuk kedisiyle **ne zaman** oynuyor?
A) okuldan gelince B) her sabah C) her akşam
4. Gülşen'in ailesi **nasılmış**?
A) küçük aile B) kalabalık aile C) zengin aile
5. Gülşen'in ailesi **nerede** oturuyormuş?
A) Samsun'da
B) Topçam Köyü'nde
C) Gümüşhane'de
6. Yukarıdaki metinde kaç tane **özel ad** vardır?
A) yedi B) altı C) beş

7. " Kardeşim yatakta uyuyacak ? " cümlesindeki noktalı yere, aşağıdakilerden hangisi yazılmalıdır?

- A) hangi B) yumuşak C) oradaki

8. "gelir - komşuna - başına - gülme" sözcüklerinden anlamlı bir atasözü oluşturduğumuzda **baştan ikinci sözcük** hangisi olur?

- A) gelir B) gülme C) komşuna

MATEMATİK DERSİ SORULARI

9. Aşağıdaki doğal sayılardan hangileri **büyükten küçüğe doğru** sıralanmıştır?

- A) 60 - 75 - 38 B) 67 - 45 - 32 C) 13 - 24 - 46

10. Beşer ritmik saymalardan hangisi **doğru** yapılmıştır?

- A) 10 - 15 - 20 - 25 - 26 - 27 - 28
B) 20 - 25 - 30 - 34 - 40 - 44 - 50
C) 55 - 50 - 45 - 40 - 35 - 30 - 25

11. 3'ten başlayıp **üçer üçer** 30' a kadar sayarken hangi sayı söylenmez?




- A) 20 B) 18 C) 9










12. Yandaki paradan **4 tane** biriktiren bir öğrencinin parası aşağıdakilerden hangisi olur?

- A)  B)  C) 

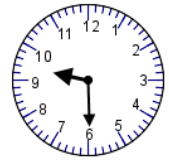
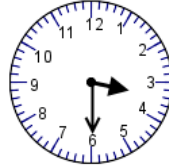
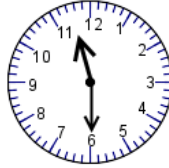
13. Hangi sayıyı hem **ikişer ikişer** hem de **dörder dörder** sayarken söyleriz?

- A) 10 B) 16 C) 18

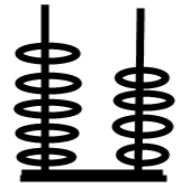
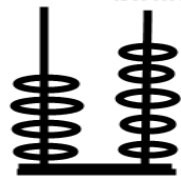
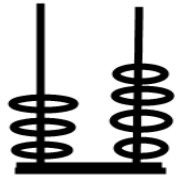
14. "16 -  - 24 - 28 - 32 -  - 40 -  - 48 - 52" sayı örüntüsündeki şekillerin yerine hangi sayılar gelmelidir?

- A)  = 18  = 33  = 47
B)  = 17  = 36  = 44
C)  = 20  = 36  = 44

15. Binnur'un kolundaki dijital saat 23.30'u gösteriyor. Buna göre duvardaki saat nasıl olmalıdır?

- A)  B)  C) 

16. "54" sayısının onluk ve birliklerini gösteren abaküs hangisidir?

- A)  B)  C) 

17. Aşağıdaki şekillerden **simetrik olanı** işaretleyiniz?

- A)  B)  C) 

HAYAT BİLGİSİ DERSİ SORULARI

18. Aşağıdaki eşleştirmelerden hangisi **yanlıştır**?

- A) inek - ahır B) koyun - kulübe C) tavuk - kümes

19. Aşağıdaki bilgilerden hangisi **doğrudur**?

- A) Güneşin doğduğu yöne "**güney**" denir.
B) Güneşin battığı yöne "**doğu**" denir.
C) Güneşin battığı yöne "**batı**" denir.

Bafra Gazi
İlköğretim Okulu
2 / B Sınıfı
Genel
Değerlendirme
Sınavı - 7

Adı:
Soyadı:

- 1 (A) (B) (C)
- 2 (A) (B) (C)
- 3 (A) (B) (C)
- 4 (A) (B) (C)
- 5 (A) (B) (C)
- 6 (A) (B) (C)
- 7 (A) (B) (C)
- 8 (A) (B) (C)
- 9 (A) (B) (C)
- 10 (A) (B) (C)
- 11 (A) (B) (C)
- 12 (A) (B) (C)
- 13 (A) (B) (C)
- 14 (A) (B) (C)
- 15 (A) (B) (C)
- 16 (A) (B) (C)
- 17 (A) (B) (C)
- 18 (A) (B) (C)
- 19 (A) (B) (C)
- 20 (A) (B) (C)
- 21 (A) (B) (C)
- 22 (A) (B) (C)
- 23 (A) (B) (C)
- 24 (A) (B) (C)
- 25 (A) (B) (C)

Doğru:

Yanlış:

PUAN:

Bafra Gazi
İlköğretim Okulu
2 / B Sınıfı
Genel
Değerlendirme
Sınavı - 7

Adı:
Soyadı:

- 1 (A) (B) (C)
- 2 (A) (B) (C)
- 3 (A) (B) (C)
- 4 (A) (B) (C)
- 5 (A) (B) (C)
- 6 (A) (B) (C)
- 7 (A) (B) (C)
- 8 (A) (B) (C)
- 9 (A) (B) (C)
- 10 (A) (B) (C)
- 11 (A) (B) (C)
- 12 (A) (B) (C)
- 13 (A) (B) (C)
- 14 (A) (B) (C)
- 15 (A) (B) (C)
- 16 (A) (B) (C)
- 17 (A) (B) (C)
- 18 (A) (B) (C)
- 19 (A) (B) (C)
- 20 (A) (B) (C)
- 21 (A) (B) (C)
- 22 (A) (B) (C)
- 23 (A) (B) (C)
- 24 (A) (B) (C)
- 25 (A) (B) (C)

Doğru:

Yanlış:

PUAN:

Bafra Gazi
İlköğretim Okulu
2 / B Sınıfı
Genel
Değerlendirme
Sınavı - 7

Adı:
Soyadı:

- 1 (A) (B) (C)
- 2 (A) (B) (C)
- 3 (A) (B) (C)
- 4 (A) (B) (C)
- 5 (A) (B) (C)
- 6 (A) (B) (C)
- 7 (A) (B) (C)
- 8 (A) (B) (C)
- 9 (A) (B) (C)
- 10 (A) (B) (C)
- 11 (A) (B) (C)
- 12 (A) (B) (C)
- 13 (A) (B) (C)
- 14 (A) (B) (C)
- 15 (A) (B) (C)
- 16 (A) (B) (C)
- 17 (A) (B) (C)
- 18 (A) (B) (C)
- 19 (A) (B) (C)
- 20 (A) (B) (C)
- 21 (A) (B) (C)
- 22 (A) (B) (C)
- 23 (A) (B) (C)
- 24 (A) (B) (C)
- 25 (A) (B) (C)

Doğru:

Yanlış:

PUAN:

Bafra Gazi
İlköğretim Okulu
2 / B Sınıfı
Genel
Değerlendirme
Sınavı - 7

Adı:
Soyadı:

- 1 (A) (B) (C)
- 2 (A) (B) (C)
- 3 (A) (B) (C)
- 4 (A) (B) (C)
- 5 (A) (B) (C)
- 6 (A) (B) (C)
- 7 (A) (B) (C)
- 8 (A) (B) (C)
- 9 (A) (B) (C)
- 10 (A) (B) (C)
- 11 (A) (B) (C)
- 12 (A) (B) (C)
- 13 (A) (B) (C)
- 14 (A) (B) (C)
- 15 (A) (B) (C)
- 16 (A) (B) (C)
- 17 (A) (B) (C)
- 18 (A) (B) (C)
- 19 (A) (B) (C)
- 20 (A) (B) (C)
- 21 (A) (B) (C)
- 22 (A) (B) (C)
- 23 (A) (B) (C)
- 24 (A) (B) (C)
- 25 (A) (B) (C)

Doğru:

Yanlış:

PUAN: