

20. Hayvan hastalıkları ve tedavisi ile uğraşan kimdir?
A) veteriner B) kasap C) çiftçi

21. Yandaki trafik levhası ne anlama gelir?



- A) Çocuk parkı var.
B) Okul geçidi var.
C) Park yapılmaz.

22. Meslek seçimini neye göre yapmalıyız?

- A) Yetenek ve ilgimize göre
B) Öğretmenimizin isteğine göre
C) Ailemizin isteğine göre

23. "Yemekten sonra anneme " " derim." Boş bırakılan yere ne yazılmalıdır?

- A) Eline sağlık B) Afiyet olsun. C) Özür dilerim.

24. "Nurten, 24 Kasım şiir okuyacağı için çok heyecanlıdır." cümlesini hangisiyle tamamlanmalıdır?

- A) İlköğretim haftasında
B) Öğretmenler Günü'nde
C) Çocuk Bayramı'nda

25. Resimde gösterilen elbise hangi mesleğe ait olabilir?

- A) kasap B) pilot C) subay



Her soru 4 (dört) puandır.
CEVAPLARINIZI KONTROL EDİNİZ

S. Oca
Süleyman OCAK
Uzman Sınıf Öğretmeni



TÜRKÇE DERSİ SORULARI

1. İnce ünlü harfler "e, i, ö, ü", kalın ünlü harfler "a, ı, o, u" dur. Buna göre hangi kelimedeki ünlü harflerin tümü kalındır?
A) zürafa B) kaplumbağa C) ceylan
2. "Şengül'e etek ve kazak alacaklar." cümlesinde "ve" yerine hangi noktalama işareti konulabilir?
A) (,) B) (!) C) (.)
3. Hangi seçenekteki cümlenin kelime sayısı en çoktur?
A) Bakarsan bağ olur, bakmazsan dağ olur.
B) Damlaya damlaya göl olur.
C) Yalancının mumu yatıya kadar yanar.
4. Hangi cümlede karsıt anlamlı kelimeler bir arada kullanılmıştır?
A) Yarın hava soğuk olacakmış.
B) Uzun ağacın yaprakları da kurumuş.
C) Yaramaz çocuklar yakında uslanırlar.
5. Aşağıdaki tümcelerden hangisinde "boncuk" kelimesi bir hayvana verilen özel isim olarak kullanılmıştır?
A) Bahçedeki kulübede Boncuk uyuyordu.
B) Boncuk almak için dükkâna gittim.
C) Eşarbımın köşesine boncuk dikeceğim.
6. Aşağıdaki sözcüklerden hangisi sözlükte en önce gelir?
A) hemşire B) bakkal C) kasap

7. "Eski ayakkabıyı boyayacak." cümlesindeki noktalı yere, aşağıdakilerden hangisi yazılmalıdır?




- A) yarın B) kim C) nasıl

8. "iyilik, bulur, eden, iyilik" sözcüklerinden anlamlı ve kurallı bir tümce oluşturduğumuzda baştan ikinci sözcük hangisi olur?

- A) iyilik B) bulur C) eden

MATEMATİK DERSİ SORULARI

9. Hangi şekil yarımı belirtmez?

- A)  B)  C) 

10. Hangi ritmik sayma yanlış yapılmıştır?

- A) 15 - 18 - 21 - 24 - 28 - 30 - 33
B) 22 - 24 - 26 - 28 - 30 - 32 - 34
C) 95 - 90 - 85 - 80 - 75 - 70 - 65

11. Aşağıdaki cisimlerden hangisinin boyu en uzundur?

- A) sandalye B) buzdolabı C) ütü




12. Yandaki paradan 5 tane biriktiren öğrencinin parası aşağıdakilerden hangisi olur?












- A)  B)  C) 


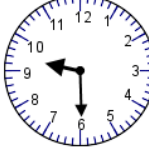

13. 1 düzine elma ile 1 deste elmanın toplamı kaç elmadır?

- A) 12 B) 20 C) 22




14. "25 -  - 35 - 40 - 45 -  - 55 -  - 65 - 70" sayı örüntüsündeki şekillerin yerine hangi sayılar gelmelidir?

- A)  = 30
 = 50
 = 60
- B)  = 26
 = 46
 = 64
- C)  = 30
 = 50
 = 56

15. Nurşen'in kolundaki dijital saat 21.30'u gösteriyor. Buna göre duvardaki saat nasıl olmalıdır?

- A)  B)  C) 

16. "42" sayısının onluk ve birliklerini gösteren abaküs hangisidir?

- A) onluk birlik  B) onluk birlik  C) onluk birlik 

17. 2'den başlayıp ikişer ikişer 20'ye kadar sayarken hangi sayıyı söylemeyiz?

- A) 12 B) 8 C) 17

HAYAT BİLGİSİ DERSİ SORULARI

18. Aşağıdakilerden hangisi kolumuzun bir bölümü değildir?

- A) dirsek B) topuk C) bilek

19. Sınıfta, derslerde yararlandığımız araç ve gereçleri, ders bitince ne yapmalıyız?

- A) Onlarla oyun oynamalıyız.
B) Aldığımız yere bırakmalıyız.
C) Çantamıza koymalıyız.

Bafra Gazi
İlköğretim Okulu
2 / B Sınıfı
Genel
Değerlendirme
Sınavı - 6

Bafra Gazi
İlköğretim Okulu
2 / B Sınıfı
Genel
Değerlendirme
Sınavı - 6

Bafra Gazi
İlköğretim Okulu
2 / B Sınıfı
Genel
Değerlendirme
Sınavı - 6

Bafra Gazi
İlköğretim Okulu
2 / B Sınıfı
Genel
Değerlendirme
Sınavı - 6

Adı:
Soyadı:

Adı:
Soyadı:

Adı:
Soyadı:

Adı:
Soyadı:

- 1 (A) (B) (C)
- 2 (A) (B) (C)
- 3 (A) (B) (C)
- 4 (A) (B) (C)
- 5 (A) (B) (C)
- 6 (A) (B) (C)
- 7 (A) (B) (C)
- 8 (A) (B) (C)
- 9 (A) (B) (C)
- 10 (A) (B) (C)
- 11 (A) (B) (C)
- 12 (A) (B) (C)
- 13 (A) (B) (C)
- 14 (A) (B) (C)
- 15 (A) (B) (C)
- 16 (A) (B) (C)
- 17 (A) (B) (C)
- 18 (A) (B) (C)
- 19 (A) (B) (C)
- 20 (A) (B) (C)
- 21 (A) (B) (C)
- 22 (A) (B) (C)
- 23 (A) (B) (C)
- 24 (A) (B) (C)
- 25 (A) (B) (C)

- 1 (A) (B) (C)
- 2 (A) (B) (C)
- 3 (A) (B) (C)
- 4 (A) (B) (C)
- 5 (A) (B) (C)
- 6 (A) (B) (C)
- 7 (A) (B) (C)
- 8 (A) (B) (C)
- 9 (A) (B) (C)
- 10 (A) (B) (C)
- 11 (A) (B) (C)
- 12 (A) (B) (C)
- 13 (A) (B) (C)
- 14 (A) (B) (C)
- 15 (A) (B) (C)
- 16 (A) (B) (C)
- 17 (A) (B) (C)
- 18 (A) (B) (C)
- 19 (A) (B) (C)
- 20 (A) (B) (C)
- 21 (A) (B) (C)
- 22 (A) (B) (C)
- 23 (A) (B) (C)
- 24 (A) (B) (C)
- 25 (A) (B) (C)

- 1 (A) (B) (C)
- 2 (A) (B) (C)
- 3 (A) (B) (C)
- 4 (A) (B) (C)
- 5 (A) (B) (C)
- 6 (A) (B) (C)
- 7 (A) (B) (C)
- 8 (A) (B) (C)
- 9 (A) (B) (C)
- 10 (A) (B) (C)
- 11 (A) (B) (C)
- 12 (A) (B) (C)
- 13 (A) (B) (C)
- 14 (A) (B) (C)
- 15 (A) (B) (C)
- 16 (A) (B) (C)
- 17 (A) (B) (C)
- 18 (A) (B) (C)
- 19 (A) (B) (C)
- 20 (A) (B) (C)
- 21 (A) (B) (C)
- 22 (A) (B) (C)
- 23 (A) (B) (C)
- 24 (A) (B) (C)
- 25 (A) (B) (C)

- 1 (A) (B) (C)
- 2 (A) (B) (C)
- 3 (A) (B) (C)
- 4 (A) (B) (C)
- 5 (A) (B) (C)
- 6 (A) (B) (C)
- 7 (A) (B) (C)
- 8 (A) (B) (C)
- 9 (A) (B) (C)
- 10 (A) (B) (C)
- 11 (A) (B) (C)
- 12 (A) (B) (C)
- 13 (A) (B) (C)
- 14 (A) (B) (C)
- 15 (A) (B) (C)
- 16 (A) (B) (C)
- 17 (A) (B) (C)
- 18 (A) (B) (C)
- 19 (A) (B) (C)
- 20 (A) (B) (C)
- 21 (A) (B) (C)
- 22 (A) (B) (C)
- 23 (A) (B) (C)
- 24 (A) (B) (C)
- 25 (A) (B) (C)

Doğru:

Doğru:

Doğru:

Doğru:

Yanlış:

Yanlış:

Yanlış:

Yanlış:

PUAN:

PUAN:

PUAN:

PUAN: